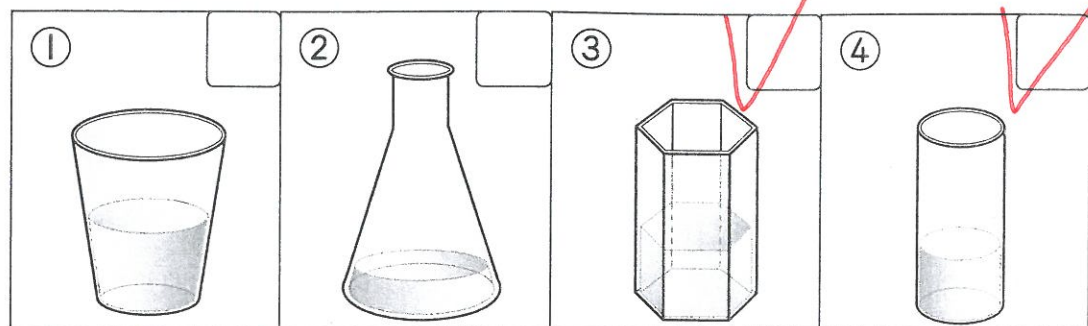


目 下了多少雨

1. 下列各容器，哪些適合用來測量雨量？


請在  中打 。



2. 根據課本第 85 頁的資料，中央氣象局出版的雨量是測量所收集雨水的哪一項資料？請在  中打 。

(1) 水量  (2) 時間  (3) 高度  (4) 重量

3. 右圖是 小明 6 月 11 日 9:00 ~ 11:00 所收集的雨量紀錄，請寫出 小明 收集的雨量是多少毫米？




答

43 毫米

目 天氣與生活

面對各種天氣狀況，我們應該如何應變才能避免對生活造成影響？請將各種狀況和應變方法連起來。

① 雨量不足造成旱災



ㄅ. 平時保持水溝暢通。

② 雨量過多造成淹水



ㄆ. 家中裝設省水水龍頭，並節約用水。

③ 天氣酷熱



ㄇ. 外出時，注意防晒，並預防中暑。